

SALA DE RECURSOS MULTIFUNCIONAL

ESCOLA MUNICIPAL PROFESSOR SEBASTIÃO FELTRIN

PROFESSORAS: MARCIA NOVAES

TURMA: A



COMPONENTES CURRICULARES: LÍNGUA PORTUGUESA E MATEMÁTICA

DATA DA REALIZAÇÃO: DE 25 de setembro a 01 de outubro

ALUNO (A): _____ TURMA: _____

Senhores Pais e Responsáveis

Vocês estão recebendo as **ATIVIDADES COMPLEMENTARES DE ESTUDO PARA O PERÍODO DE ISOLAMENTO – COVID 19, referente a semana de 25 de setembro a 01 de outubro de 2020**. Contamos com sua participação para que todas essas atividades sejam realizadas pelo seu filho.

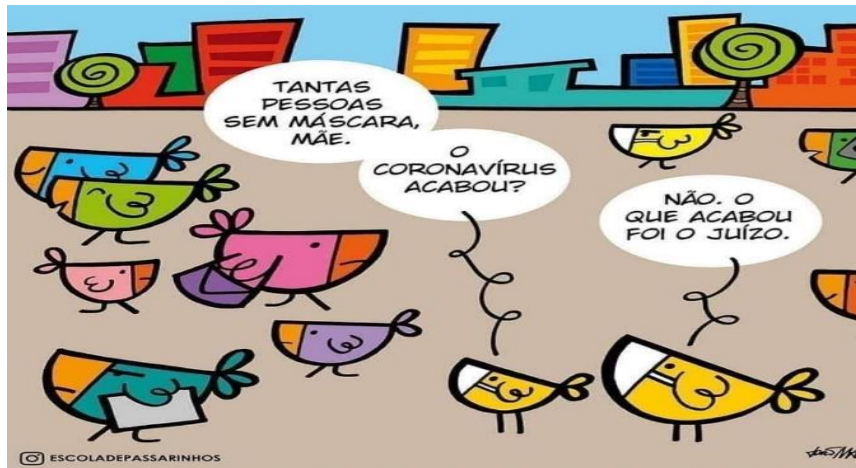
No roteiro a seguir estão as atividades e todas as orientações para sua execução. Tudo está descrito de forma simples. Qualquer dúvida estarei a disposição no Whats App.

Abraços,

Professora MÁRCIA

VÍDEO OU ÁUDIO DA EXPLICAÇÃO DA PROF^a.	➤ Assista ao Vídeo/ áudio explicativo da professora.
O QUE VAI ESTUDAR?	Língua Portuguesa e Matemática Interpretação de imagens, leitura, vocabulário, organização de pensamento, palavras com LH Percepção visual, organização espacial, numeração, meses do ano, sucessor, operações de subtração
PARA QUÊ VAMOS ESTUDAR ESSES CONTEÚDOS?	Para descobrir as mensagens explícitas e implícitas das gravuras e relacioná-las ao cotidiano Desenvolver noção espacial, atenção seguindo as orientações para preencher o quadro Relembrar os meses do ano, números sucessores e palavras com LH
COMO VAMOS ESTUDAR ESSES CONTEÚDOS	Ouvindo as explicações da professora pelo whatsapp Realizando as atividades Perguntando para a professora se tiver dúvida
COMO VAMOS REGISTRAR O QUE APRENDEMOS?	Preenchendo com atenção o módulo Levando os roteiros preenchidos na escola para correção

ATENÇÃO:EXISTEM MENSAGENS QUE PODEM SER TRANSMITIDAS ATRAVÉS DE IMAGENS
Analisar as gravuras e escrever com suas palavras qual a mensagem que podemos tirar das imagens abaixo.



QUANDO VOCÊ É OBRIGADO A APRENDER







QUANDO VOCÊ QUER APRENDER



SIMPLES ASSIM...

Para realizar a atividade abaixo siga as instruções:

- 1) Na **linha B** escreva três meses do ano em cada quadradinho em branco.
- 2) Na **linha C** escreva três números que estão **entre 3.001 e 4.999 que sejam pares**
- 3) Na **linha D** escreva três palavras com LH
- 4) Na **linha E** escreva os **sucessores dos números 1.899 – 2.709 – 3.499**

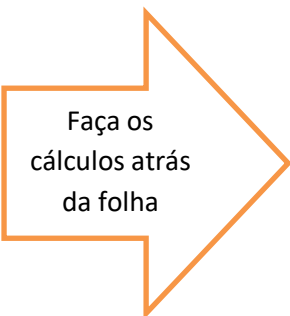
E			
D			
C			
B			
A	1	2	3

Agora que está tudo preenchido você vai escrever o que está no:

B2 _____ E1 _____ D3 _____
 C4 _____ D1 _____ E3 _____



Q	U	I	N	H	E	N	T	O	S	T	A	V	A	S	C	E	M
U	A	C	T	R	S	O	M	I	N	P	O	Y	T	Z	A	N	B
A	B	A	E	A	S	V	N	T	A	A	D	U	M	A	R	A	I
R	A	S	Y	T	R	E	J	O	I	T	O	C	E	N	T	O	S
E	S	D	U	E	B	C	P	T	C	E	Z	I	N	D	O	Y	L
N	V	F	I	A	U	E	L	V	P	A	E	L	R	O	S	B	Ç
T	X	J	Ç	C	H	N	L	X	B	I	E	Ç	T	O	B	C	B
A	Q	H	Q	U	A	T	R	O	C	E	N	T	O	S	X	W	C
B	U	B	U	C	A	O	C	R	H	R	C	L	I	R	B	R	A
V	P	C	A	Ç	C	S	E	I	S	C	E	N	T	O	S	J	E
X	O	C	T	N	T	R	A	S	Q	B	D	Q	R	M	A	K	T
Z	I	T	R	E	Z	E	N	T	O	S	F	Y	I	A	B	L	E
E	W	X	O	N	N	Z	A	V	T	A	F	D	N	T	R	N	Y
R	E	R	P	V	B	A	C	L	U	S	G	T	T	T	R	C	H
R	T	W	M	P	C	R	Y	B	T	J	S	G	A	I	B	A	I



- 900 – 400 =
- 280 – 240 =
- 500 – 100 =
- 985 – 85 =
- 729 – 721 =

